



1-1 Побудуй вежі, та впорядкуй їх за
кольором та номером

1



1



2



3



4



5



6



7



8



9



10



1-2 Збери кубики відповідно до кольору.



2





2-1 Збери кубики відповідно до кольору та висоти олівців.

3






2-2 Спробуй порівняти, яке число більше або менше.

4

3 > 2



4 < 6




7 > 5





3-1 Чи можете ви зробити такі ж моделі?

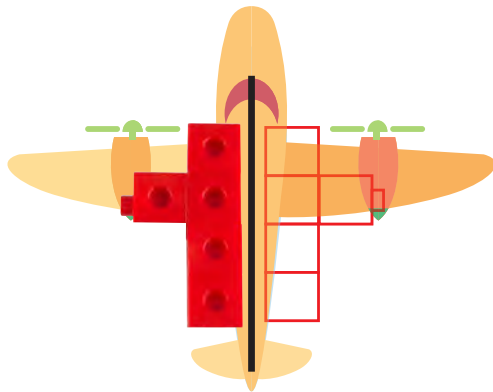
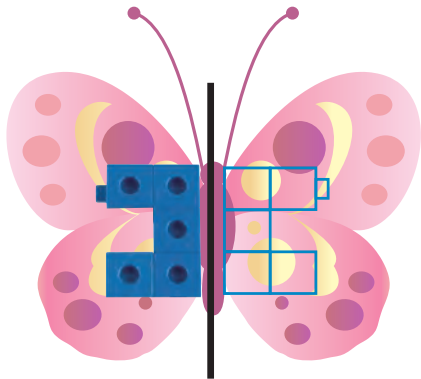
5





3-2 Придумай про інші приклади
дзеркального відображення та побудуй його.

6





4-1 Склади кубики, як на прикладі, і
запиши відповідь.

7

$$5 + 3 = 8$$

$$4 + 2 =$$

$$1 + 6 =$$



4-2 Знайди способи здобути цифру 10.

8

$$4 + 6$$


$$5 +$$

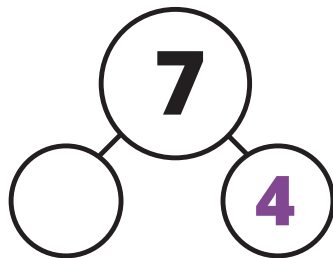

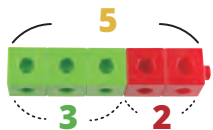
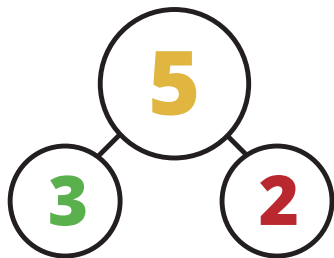
$$+ 8$$

$$3 +$$

$$+$$

$$+$$







$3 + 3 + 3 + 3 + 3 = 15$
 $3 \times 5 = 15$
 $15 \div 3 = 5$